

# **UN PASSEIG PEL POBLE DE SANT JOAN D'HORTA**

**Quadern per a l'alumnat de Cicle Superior de Primària**



Us heu fixat mai en el barri d'Horta? Segur que sí! Avui us proposem la descoberta de l'antic poble de Sant Joan d'Horta. Un poble ple d'història i que encara avui dia conserva bona part dels carrers, les places i els edificis que li donen identitat des de fa anys.

La vida a Sant Joan d'Horta ha canviat amb el pas del temps i justament el que volem és que a través dels documents de l'arxiu investigueu l'origen i funció d'alguns dels edificis més importants d'ara i d'abans.

Un cop hàgiu fet la vostra recerca, us proposem un itinerari per comprovar i descobrir en directe tot allò que haureu investigat.

Som-hi!

Abans de començar, aquí teniu els edificis que tractarem, o bé en el quadern o bé a l'itinerari.







## 1. ABANS DE RES, SITUEM-NOS EN L'ESPAI

Per ajudar a situar-te, al fons tens la muntanya de Collserola, i el camí que es veu en primer pla que transcorre paral·lel a la fotografia és la riera d'Horta.

Pel que veus en aquesta imatge, com era el poble de Sant Joan d'Horta a l'inici del segle XX?

Fes-ne una descripció.





## 2. INVESTIGA

Durant molts anys Horta va ser un municipi independent. En aquesta plaça hi havia la Casa del Comú, que era l'Ajuntament. Quin nom rep aquesta plaça avui dia?



A la mateixa plaça hi ha l'antiga masia de Can Gras. Observa les dues fotografies que es conserven a l'Arxiu del Districte d'Horta-Guinardó, una és del 1950 i l'altra del 1992. Quina és quina?

Ara explica la utilitat que va tenir aquesta casa al llarg dels anys.




### 3. OBSERVA I DEDUEIX



Aquí tens una fotografia del carrer d'Horta l'any 1954.

Què està fent aquesta dona?





Quin instrument s'utilitzava per a aquesta feina?




### 4. TROBA LES DIFERÈNCIES

Observa aquestes dues fotografies del carrer d'Horta.

Quines diferències hi veus?







## 5. INVESTIGA

Aquesta és una imatge de la Masia de Can Mariner.

Quina funció té avui dia?



## 6. INVESTIGA

El barri d'Horta sempre ha tingut una vida cultural molt activa. Aquí tens una imatge de l'edifici dels Lluïsos d'Horta. Quines activitats culturals s'hi fan avui dia?

I al Foment Hortenc?

I a l'Ateneu Hortenc?



## 7. VISUALITZA UNA NOTÍCIA DE BETEVEÉ I RESPON LES PREGUNTES

Quina funció va tenir el carrer de Campoamor entre els segles XIX i XX?



Ara observa aquesta fotografia i explica què hi veus.





## 8. EDIFICI DESAPAREGUT

A través dels codis QR podràs veure com era l'antiga església de Sant Joan d'Horta i com és la que es va construir a inicis del segle XX, que és l'església actual.

Quines diferències hi trobes?








## 9. OBSERVA

La plaça d'Eivissa és un lloc molt freqüentat pels hortencs. Observa la fotografia i digues què s'hi feia abans.



**QUADERN PER A L'ALUMNAT  
DE CICLE SUPERIOR  
DE PRIMÀRIA**



Ajuntament  
de Barcelona