

UN PASSEIG PEL POBLE DE SANT JOAN D'HORTA

Quadern per a l'alumnat d'Educació Secundària Obligatòria



Us heu fixat mai en el barri d'Horta? Segur que sí! Avui us proposem la descoberta de l'antic poble de Sant Joan d'Horta. Un poble ple d'història i que encara avui dia conserva bona part dels carrers, les places i els edificis que li donen identitat des de fa anys.

L'Arxiu del Districte d'Horta-Guinardó custodia una part molt important del patrimoni documental de quan Sant Joan d'Horta era un poble. Aquests documents, tant fotogràfics com textuals, són els que permeten reconstruir la història de l'antic municipi, i ahora ens ajuden a descobrir com era la vida a finals del segle XIX fins a mitjans del segle XX, període en el qual se centra aquest recorregut.

Un cop hàgiu fet la vostra recerca, us proposem un itinerari per comprovar i descobrir en directe tot allò que haureu investigat.

Som-hi!

Abans de començar, aquí teniu els edificis que tractarem, o bé en el quadern o bé a l'itinerari.





1. ABANS DE RES, SITUEM-NOS EN L'ESPAI

Assenyala:

- El turó més alt del fons és el turó d'en Segarra.
- La riera d'Horta, camí que transcorre paral·lel a la fotografia.
- Can Sala, casa que té una torre alta amb coberta a quatre vessants.
- A l'extrem dret de la foto, el Campanar de les Noies.




Pel que veus en aquesta imatge, com era el poble de Sant Joan d'Horta a l'inici del segle XX?

Fes-ne una descripció.




2. QUAN VA ESDEVENIR...?

Durant molts anys Horta va ser un municipi independent. Quan va esdevenir Horta municipi per primer cop i quan es va agregar a Barcelona?



En aquesta plaça hi havia la Casa del Comú o plaça Major.
Quin nom rep avui dia aquesta plaça?



A la mateixa plaça hi ha l'antiga masia de Can Gras. Observa les dues fotografies que es conserven a l'Arxiu del Districte d'Horta-Guinardó i explica quines transformacions ha patit aquesta casa amb el pas dels anys.




3. OBSERVA I DEDUEIX



Aquí tens una fotografia del carrer d'Horta l'any 1954.

Què està omplint aquesta dona?



Per què no ho feia a casa?



4. TROBA LES DIFERÈNCIES

Observa aquestes dues fotografies del carrer d'Horta.

Explica l'evolució del carrer amb el pas del temps.






5. INVESTIGA

Aquesta és una imatge de la Masia de Can Mariner.

A quin carrer està situada encara? Quina funció té avui dia?



6. DESCOBREIX



El barri d'Horta sempre ha tingut una vida associativa molt activa. En el document al qual et condueix el codi QR trobaràs el segell de totes les entitats que es van comprometre a facilitar fotografies per a la creació de l'Arxiu Fotogràfic d'Horta.

Escriu el nom de cinc d'aquestes entitats.





7. VISUALITZA UNA NOTÍCIA DE BETEVÉ I RESPON LES PREGUNTES

Quina funció va tenir el carrer de Campoamor entre els segles XIX i XX?



Quines cases s'hi van construir?

Com es deia aquest carrer originàriament?

Ara observa aquesta fotografia i explica com seria la vida dels estudiants en aquells anys de principis de segle XX.






8. EDIFICI DESAPAREGUT


A través del codi QR podràs veure com era l'antiga església de Sant Joan d'Horta.

Quin era l'element que la distingia?

Quina funció tenia aquest element?



Aquí tens una altra fotografia de l'estat de l'església l'any 1909 i explica de quina manera va acabar desapareixent.



A quin carrer es troba la nova església?

De quin estil és?





9. OBSERVA


Ara observa aquestes altres fotografies i dedueix quines activitats se celebren al Foment Hortenc.





10. OBSERVA

La plaça d'Eivissa és un lloc molt freqüentat pels hortencs. Observa la fotografia i digues què s'hi feia abans.



**QUADERN PER A L'ALUMNAT
D'EDUCACIÓ SECUNDÀRIA
OBLIGATÒRIA**



Ajuntament
de Barcelona