

UN PASSEIG PEL SARRIÀ ANTIC

Quadern per a l'alumnat de Cicle Superior de Primària



UN PASSEIG PEL SARRIÀ ANTIC


Us heu fixat mai en el barri de Sarrià? Segur que sí! Avui us proposem la descoberta del Sarrià antic. Un poble ple d'història i que encara avui dia conserva bona part dels carrers, les places i els edificis que li donen identitat des de fa anys.

La vida a Sarrià ha canviat amb el pas del temps i justament el que volem és que, a través dels documents de l'arxiu, investigueu l'origen i la funció d'alguns dels edificis més importants d'ara i d'abans.

Un cop hàgiu fet la recerca, us proposem un itinerari per comprovar i descobrir en directe tot allò que haureu investigat.

Som-hi!

Abans de començar, aquí teniu els edificis de què tractarem a l'itinerari.



A. T. V. — 295 - BARCELONA, Sarrià
Pasea de Doña Elisenda de Moncada



1. SITUA'T

Abans de res, situem-nos en l'espai. Aquí tens una fotografia de principis del segle XX.

Investiga quins són els elements geogràfics que hi apareixen.



.....

Turó del fons:

.....

Torrent sota el pont:

.....

Edifici que es veu al fons de tot:

.....

Ara observa aquesta altra fotografia. Quin ús tenia la plaça de Sarrià en aquell temps?






2. INVESTIGA

Al carrer Major, núm. 117, hi ha el Teatre de Sarrià. Aquest teatre és la seu de l'entitat Orfeó Sarrianenc.

Mira [aquest vídeo](#) de Betevé i respon les preguntes:



- Quin any es va fundar?
- Per què no queda documentació de l'Orfeó Sarrianenc?
- Quina importància penses que té per a Sarrià?



Aquí tens una fotografia d'un dels grups de l'Orfeó Sarrianenc. Investiga, a què es dedicaven?





3. OBSERVA



Observa la fotografia d'aquest ball de festa major davant de Can Llança.

De quina mena de ball de festa major es tracta? Encercla la resposta correcta.

Ball de gitanes

Ball de bastons

Ball de gegants

Ball de cercolets



Investiga quines són les activitats més importants de la Festa Major de Sarrià.



4. CONSULTA



El Mercat de Sarrià

Entra al catàleg en línia de l'Arxiu Municipal de Barcelona a través del codi QR i observa la fotografia.

- Com és l'edifici del mercat?
- De quins materials està fet?
- De quin estil és?





5. COMPLETA

Accedeix a la fotografia de l'Arxiu del Districte de Sarrià - Sant Gervasi a través del codi QR i omple la graella següent.



.....
Títol de la fotografia

.....
Any

.....
Tipus de transports que s'hi veuen

.....
Cables elèctrics sobre el carrer. Què són?

.....
Edificis que hi reconeixes

.....



6. DESCOBREIX

Accedeix a la fotografia de l'Arxiu del Districte de Sarrià - Sant Gervasi a través del codi QR i omple la graella següent.



.....
Títol de la fotografia

.....
Any

.....
Tipus de transports que s'hi veuen

.....
Edifici principal

.....
Diferències entre abans i ara
.....



7. CONSULTA

Accedeix al document de l'Arxiu del Districte de Sarrià - Sant Gervasi a través del codi QR i analitza el permís d'obres de Can Margenat.



Institució que emet el document

Any del permís



Nom del propietari

Estil arquitectònic de l'edifici



8. INVESTIGA


Accedeix a la fotografia de l'Arxiu del Districte de Sarrià - Sant Gervasi a través del codi QR i investiga quina és la funció d'aquest edifici.





9. COMPLETA

Accedeix al document de l'Arxiu del Districte de Sarrià - Sant Gervasi a través del codi QR i analitza el document.



Institució que emet el document


Any del permís

Nom del propietari

Estil arquitectònic

Qui podria viure en aquesta casa?

Accedeix al document de l'Arxiu del Districte de Sarrià - Sant Gervasi a través del codi QR i busca la informació següent.



Propietari

Institució que emet el document

Any del permís

Nom de l'arquitecte

Estil de la façana

Qui podria viure en aquesta casa?

**QUADERN PER A L'ALUMNAT
DE CICLE SUPERIOR
DE PRIMÀRIA**



Ajuntament
de Barcelona